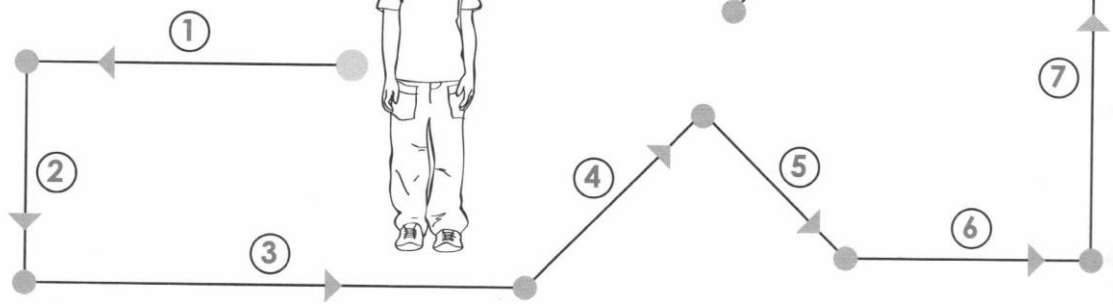
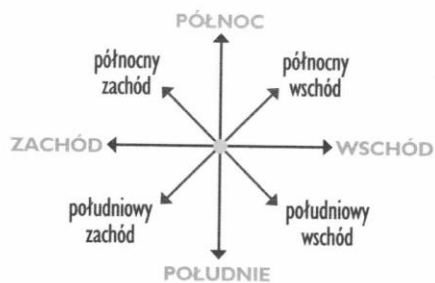


**9 Wycieczka w góry**

**MORSKIE OKO - 3 godziny**

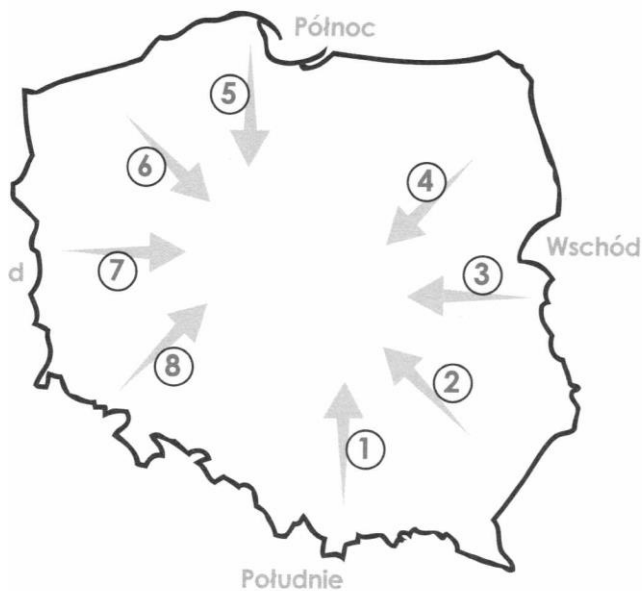


Wojtek idzie na wycieczkę w góry.

1. Najpierw idzie ze *wschodu* na zachód,
2. z ..... na południe,
3. z ..... na wschód,
4. ze ..... na północny wschód,
5. z ..... na południowy wschód,
6. z ..... na wschód,
7. ze ..... na północ.
8. z ..... na północny zachód.
9. z ..... na południowy wschód.
10. z ..... na północ.

**10 Skąd wieje wiatr?**

ze wschodu / z południowego wschodu / z północnego zachodu / z północy / z południowego zachodu / z zachodu / z południa / z północnego wschodu



Wiatr wieje:

1. z południa
2. ....
3. ....
4. ....
5. ....
6. ....
7. ....
8. ....

### 3 Nowy Wiśnicz

W Nowym Wiśniczu na rynku obok *kościota* (kościół) jest restauracja, do której bardzo lubimy chodzić w niedzielę na obiad. Na wprost ..... (restauracja) jest mały park, a zaraz koło ..... (park) – kino. Rzadko chodzimy do ..... (kino), ale co tydzień chodzimy do ..... (teatr), który jest naprzeciwko ..... (szkoła). Na wprost ..... (stacja PKP) znajduje się skwer. Po lewej stronie ..... (skwer) stoi kiosk. Koło ..... (kiosk) jest mały parking. Koło ..... (parking) stoi mój dom.

### 4 Gdzie się znajduje?



Oto plan małego miasta.

1. Restauracja znajduje się obok *kina*.
2. Kino znajduje się naprzeciwko .....
3. Teatr znajduje się obok .....
4. Kiosk znajduje się na wprost .....
5. Kościół znajduje się koło .....
6. Szkoła znajduje się naprzeciwko .....
7. Stacja PKP znajduje się po lewej stronie.....  
.....
8. Parking znajduje się na środku .....
9. Lodziarnia znajduje się obok .....
10. Piekarnia znajduje się po prawej stronie .....